

EXAMENUL DE BACALAUREAT 2024

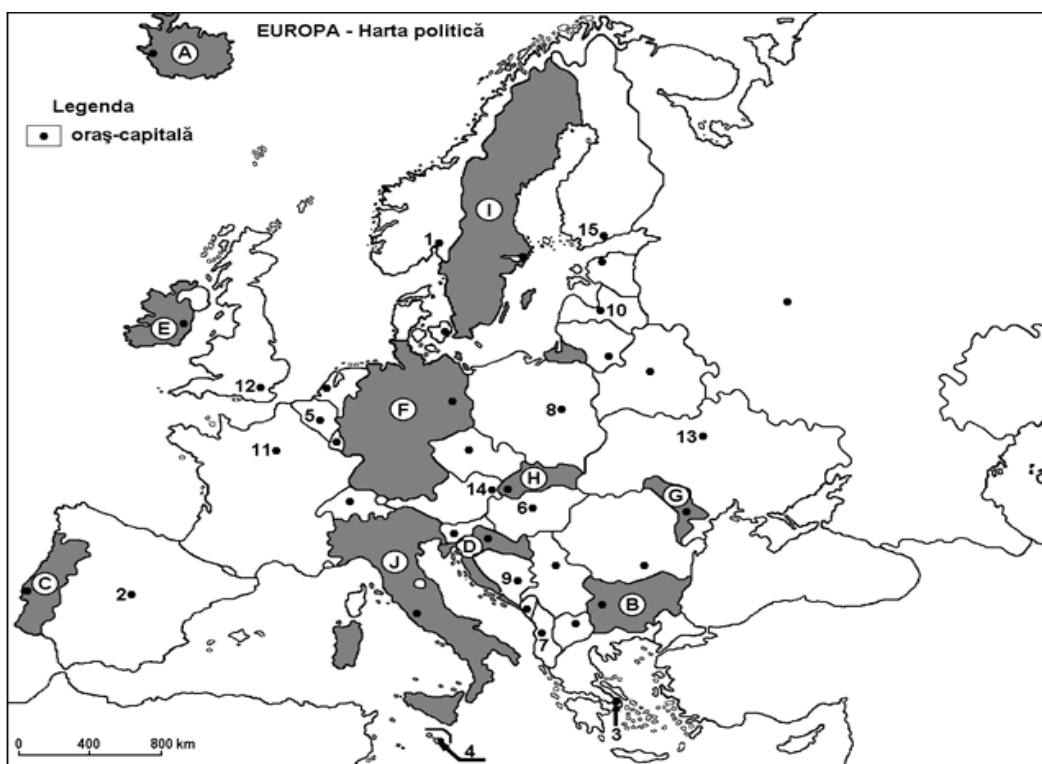
TEST DE ANTRENAMENT

Proba E. d) – Geografie

- Toate subiectele sunt obligatorii. Se acordă 10 puncte din oficiu.
- Timpul de lucru efectiv este de 3 ore.

SUBIECTUL I

(30 puncte)



Harta de mai sus se referă la subiectul I A – D. Pe hartă sunt marcate state cu litere și oraș-capitală cu numere.

A. Precizați:

1. numele statului marcat, pe hartă, cu litera I;
2. numele orașului-capitală marcat, pe hartă, cu numărul 5.

4 puncte

B. Scrieți, pe foaia de examen, răspunsurile corecte care completează afirmațiile de mai jos:

1. Orașul-capitală Varșovia, este marcat, pe hartă, cu numărul ...
2. Orașul marcat, pe hartă, cu numărul 12 este străbătut de fluviul ...
3. Țărnul dalmatic este specific statului marcat, pe hartă, cu litera ...

6 puncte

C. Scrieți, pe foaia de examen, litera corespunzătoare răspunsului corect pentru fiecare dintre afirmațiile de mai jos:

1. Climatul temperat continental este specific orașului marcat, pe hartă, cu numărul:  
a. 3      b. 12      c. 4      d. 13      **2 puncte**
2. Lacul Balaton se află în statul a cărui capitală este marcată cu cifra:  
a. 1      b. 6      c. 8      d. 13      **2 puncte**
3. Câmpia Padului se desfășoară în statul marcat pe harta cu litera:  
a. D      b. B      c. H      d. J      **2 puncte**
4. Are ieșire la Marea Baltică statul marcat, pe hartă, cu litera:  
a. A      b. J      c. B      d. F      **2 puncte**
5. Vegetație de taiga (păduri de conifere) întâlnim în statul marcat, pe hartă, cu litera:  
a. B      b. I      c. J      d. G      **2 puncte**

D. Precizați trei deosebiri între **clima** statului marcat, pe hartă, cu litera **A** și **clima** statului marcat, pe hartă, cu litera **J**.

*Nota 1: Deosebirile se pot referi la oricare dintre următoarele elemente de **climă**: factori genetici, tip de climă, temperaturi medii anuale/vara/iarna, amplitudine termică, precipitații medii anuale/vara/iarna, vânturi cu frecvență ridicată.*

*Nota 2: Punctajul complet va fi acordat numai dacă deosebirile vor fi prezentate comparativ și nu separat.*

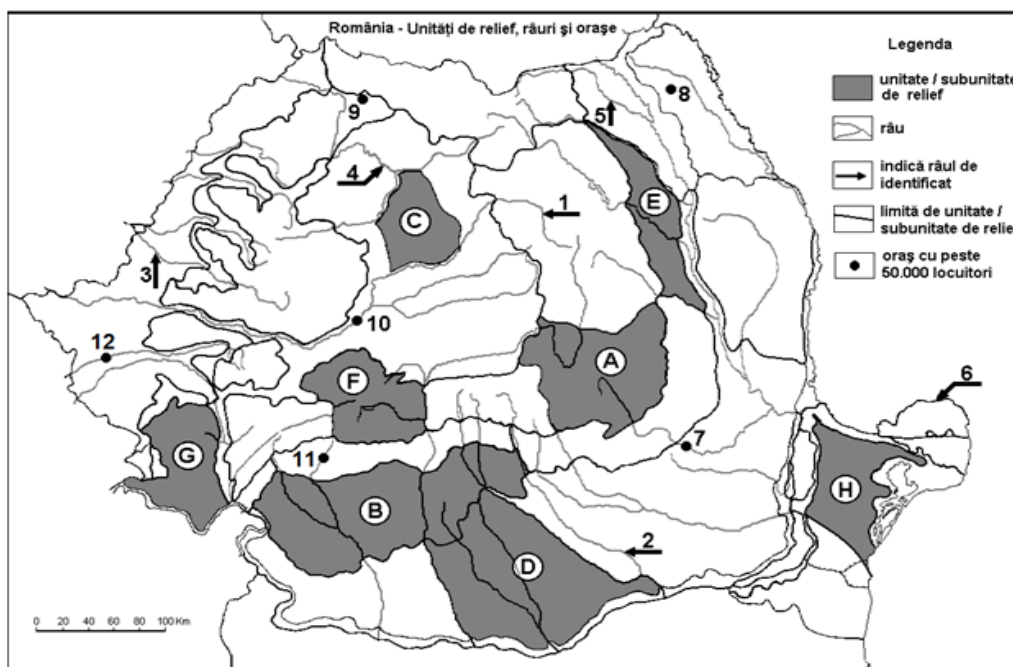
**6 puncte**

E. Prezentați o cauză care explică:

1. prezența estuarelor la gurile de vărsare ale râurilor din vestul Europei .
  2. prezența unui număr mare de lacuri glaciare în Finlanda.
- 4 puncte**

## SUBIECTUL II

**(30puncte)**



Harta de mai sus se referă la subiectul II A – D. Pe hartă sunt marcate unități de relief cu litere, râuri cu numere de la 1 la 6 și orașe cu numere de la 7 la 12.



**A. Precizați:**

1. numele unităților de relief marcate, pe hartă, cu literele **B** și **E** ;
2. numele râurilor marcate, pe hartă, cu numerele **1** și **5**.

**4 puncte**

**B. Scrieți, pe foaia de examen, răspunsurile corecte care completează afirmațiile de mai jos:**

1. Cea mai veche unitate de relief din România este marcată pe harta cu litera ...
2. Depresiunea Brașov este localizată în unitatea de relief marcată pe hartă cu litera ...
3. Influențe climatice pontice întâlnim în unitatea marcată cu litera....

**6 puncte**

**C. Scrieți, pe foaia de examen, litera corespunzătoare răspunsului corect pentru fiecare dintre afirmațiile de mai jos:**

1. Relief de domuri întâlnim în unitatea de relief marcată, pe hartă cu litera:

a. G;      b. C      c. E;      d. B;

**2 puncte**

2. Șisturi verzi, întâlnim în unitatea de relief marcată, pe hartă, cu litera:

a. A;      b. H ;      c. B ;      d. D ;

**2 puncte**

3. Brațul Dunării marcat cu cifra 6 se numește:

a. Sf. Gheorghe ;      b. Chilia ;      c. Sulina;      d. Tulcea;

**2 puncte**

4. Păduri de conifere întâlnim în unitatea marcată pe hartă cu litera:

a. B;      b. H;      c. A;      d. D;

**2 puncte**

5. Molisolurile/cernoziomurile sunt specifice unității de relief marcate cu litera:

a. G ;      b. E;      c. D ;      d. A ;

**2 puncte**

**D. Precizați trei deosebiri între relieful unității marcate, pe hartă, cu litera **A** și relieful unității marcate, pe hartă, cu litera **H**.**

*Nota 1: Deosebirile se pot referi la oricare dintre următoarele aspecte ale reliefului: mod de formare, tipuri de roci pe care s-a format relieful, altitudini, gradul de fragmentare, tipuri genetice de relief, orientarea culmilor și a văilor principale, dispunerea depresiunilor, alte aspecte specifice ale reliefului.*

*Nota 2: Punctajul complet va fi acordat numai dacă cele trei deosebiri vor fi prezentate comparativ și nu separat.*

**6 puncte**

**E. 1. Precizați două modificări ale țărmului Mării Negre datorate acțiunii curenților marini (circulari);**

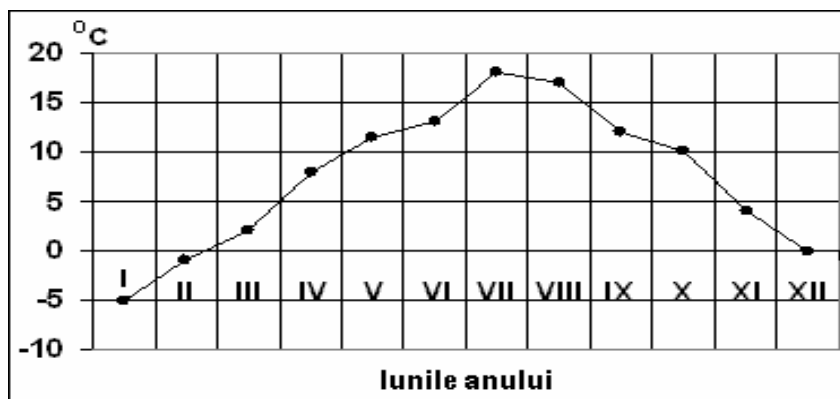
2. Prezentați două cauze care explică, prezența lacurilor glaciare din Carpații Meridionali;

**4 puncte**

**SUBIECTUL III**

**(30 puncte)**

Reprezentarea grafică de mai jos se referă la subiectele **III A** și **B** și reprezintă evoluția temperaturilor medii lunare la o stație meteorologică.





A. Precizați:

(4 puncte)

1. valoarea maximă a temperaturii medii lunare și luna în care s-a înregistrat;
2. valoarea minimă a temperaturii medii lunare și luna în care s-a înregistrat.

B. Precizați:

(6 puncte)

1. luna în care temperatura aerului are valori de  $10^{\circ}\text{C}$ ;
2. tipul de climat ce are specifică reprezentarea grafică de mai sus;
3. modul de calcul al amplitudinii termice medii anuale.

C. Pentru **Bulgaria**, precizați numele:

1. a două unități montane;
2. unei unități de câmpie;
3. unui tip de climă;
4. două cursuri de apă;
5. unui tip de vegetatie;
6. unui tip de sol;
7. unei mări la care are ieșire;
8. numele orașului-capitală;

(10 puncte)

D. Tabelul de mai jos prezintă coordonate geografice aferente punctelor extreme din România.

Coordonate geografice	Coordonate geografice
Paralela $48^{\circ}15'06''\text{N}$	Meridianul $29^{\circ}41'24''\text{E}$
Paralela $43^{\circ}37'07''\text{N}$	Meridianul $20^{\circ}15'44''\text{E}$

1. Precizați latitudinea celui mai sudic punct din România.
2. Precizați longitudinea celui mai vestic punct din România.
3. Prezentați o consecință climatică a diferenței de longitudine dintre cel mai vestic și cel mai estic punct al României.

(6 puncte)

E. 1. Precizați două cauze care determină diferența dintre temperatura medie anuală înregistrată la Constanța ( $11,3^{\circ}\text{C}$ ) și temperatura medie anuală înregistrată la Suceava ( $8,2^{\circ}\text{C}$ );

(4 puncte)